



ESCOLA EB 2, 3 DE LEÇA DA PALMEIRA  
**FICHA DE AVALIAÇÃO DE GEOGRAFIA**

7º Ano Mar. 09

NOME \_\_\_\_\_ Nº \_\_\_\_\_ TURMA \_\_\_\_\_

Classificação: \_\_\_\_\_ A professora: \_\_\_\_\_

1. **“Como sabes a Europa não está sozinha no mundo; ela é rodeada por oceanos, mares e continentes que fazem parte das suas fronteiras naturais.”**

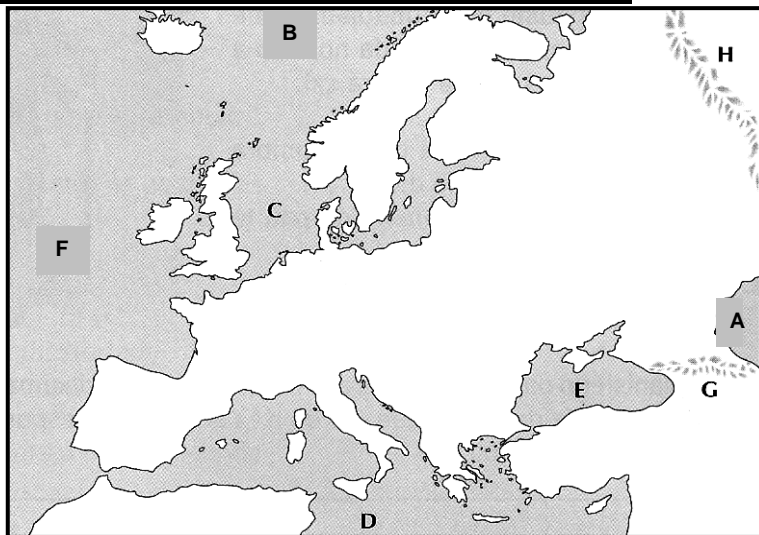


Fig.1

1.1 Refere dois (2) **limites** naturais que a **Sul** separam a Europa da *África* ou da *Ásia*.

C - ..... G - .....

a) **Localiza-os** no mapa da Europa, assinalando-os com as respectivas *letras* (C e G).

1.2 Identifica os **limites** marcados no mapa com as *letras*:

A - ..... B - ..... F - .....

1.3 **Assinala** no mapa, usando a respectiva *letra*, a **localização** dos seguintes *acidentes costeiros*.

<u>Penínsulas</u>	<u>Ilhas</u>
a - Balcânica	e - Islândia
b - Jutlândia	f - Baleares
c - Escandinávia	g - Chipre
d - Itálica	h - Sicília
	i - Grã-Bretanha
	j - Córsega

1.4 Completa a *legenda* da figura 1, **identificando** os *elementos* que se seguem.

**Mares**

- 1 - .....
- 2 - .....
- 3 - .....

4 - .....

**Estreitos**

- 5 - .....
- 6 - .....

2. Observa o actual **mapa político** da **Europa**.

2.1 Identifica os **países**, da figura 2, assinalados pelos *números*:

- 1 - .....
- 4 - .....
- 6 - .....
- 10 - .....
- 12 - .....
- 24 - .....
- 27 - .....
- 30 - .....
- 34 - .....

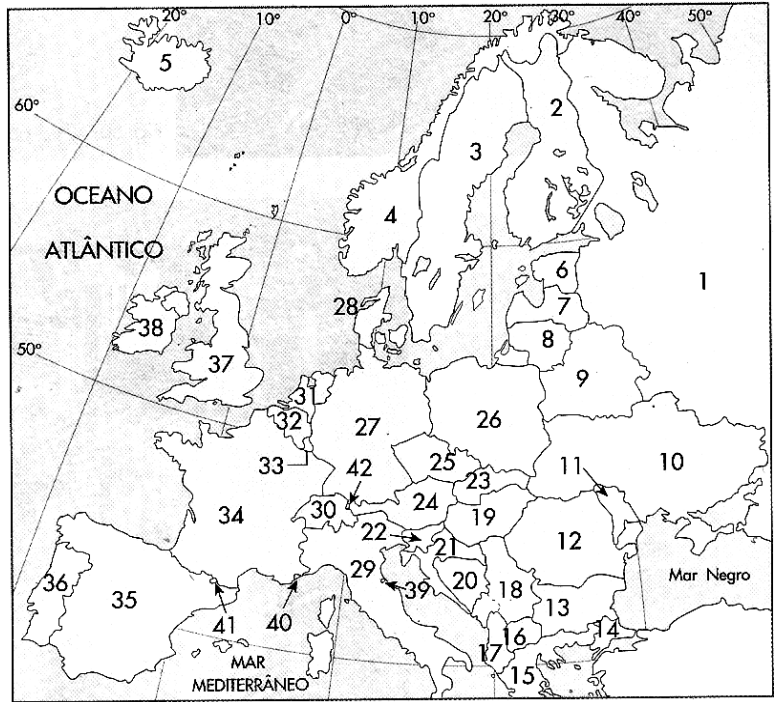


Fig.2

2.2 Menciona as **capitais** dos *países* assinalados pelos números:

- 1 - ..... 27 - ..... 35 - ..... 37 - .....

3. Relaciona os seis (6) **pequenos estados** (*micro-estados*) europeus com a respectiva *localização geográfica*, colocando a letra no respectivo .

- A - **Liechtenstein**
- B - **Malta**
- C - **Vaticano**
- D - **S. Marino**
- E - **Andorra**
- F - **Mónaco**

- No sudeste de França
- Nos Alpes, entre Suíça e Áustria
- Ilha situada a sul da Sicília
- Nas montanhas dos Pireneus
- No centro da cidade de Roma
- No este da península Itálica

Letra

4. Baseia-te na figura 2 e **completa** as *frases* com o **nome** do(s) **país(es)** do continente onde vivemos.

- *Dois países cujo território é constituído apenas por ilhas são .....*
- *Dois dos países com que a Rússia tem fronteira são .....*
- *Todo o território da maior ilha da Europa pertence ao .....*
- *Dois países banhados pelo Mar Adriático são .....*
- *Os dois maiores países da Europa são .....*
- *Dois países localizados no interior do continente são .....*
- *Os dois únicos países euro-asiáticos são .....*
- *Os países situados nas Ilhas Britânicas são .....*

5. «Na Europa o número de países variou no tempo tendo, na última década do século XX, alterado de modo significativo.»

5.1 Menciona dois (2) exemplos dessas **alterações recentes** na *divisão política* europeia.

.....

.....

.....

5.2 Das *frases* que se seguem assinala, com um **X**, as totalmente **verdadeiras**.

- A. *O actual território alemão provém da união, em 1990, das antigas RDA e RFA.*
- B. *Em 01 de Janeiro de 1993, a Checoslováquia deu origem à República Checa e à Eslovénia.*
- C. *Em Junho de 1991, a antiga Jugoslávia dividiu-se em 7 novos países.*
- D. *A Macedónia, a Bósnia, a Croácia e o Montenegro pertenceram à Ex-Jugoslávia.*
- E. *A Rússia era a república que liderava a União Soviética – URSS.*
- F. *A alteração mais recente no mapa político europeu foi o desmembramento da União Soviética.*

6. "Durante séculos, as potências europeias guerrearam-se e defenderam ciosamente a sua soberania até que, em Março de 1957, seis países fundaram uma importante comunidade na Europa."

a) Nomeia, por extenso, a **organização** a que o *texto* se refere.

.....

b) Como ficou conhecido o **tratado** que a *instituiu* ? .....

c) Identifica os seis (6) **países** que a criaram. ....

.....

6.1 Assinala, com um **X**, as *afirmações* totalmente **verdadeiras**.

- Em 1993, ao entrar em vigor do Tratado de Maastricht, a CE passou a designar-se por União Europeia.
- Os objectivos que presidiram à formação da CEE eram exclusivamente de natureza ambiental.
- A Turquia, a Croácia e a Macedónia são países que já se candidataram à adesão à União Europeia.
- Os 6 países que fundaram CEE tinham, em 1951, instituído a CECA.
- A Rússia já, por duas vezes, esteve para aderir à UE mas a sua integração acabou por não acontecer.

6.2 Completa o *quadro* identificando o/os **país/es** que integraram os sucessivos *alargamentos* bem como o **número de aderentes** e/ou o **ano** em que aderiram.

<i>Alargamento</i>	<b>Ano</b>	<b>Países Aderentes</b>	Nº
<b>1º</b>		<i>Dinamarca, Reino Unido e</i>	3
<b>2º</b>	1981		
<b>3º</b>		<i>Espanha e</i>	2
<b>4º</b>	1995	<i>Áustria, Finlândia e</i>	3
<b>5º</b>	2004	<i>Estónia, Letónia, Lituânia, República Checa, Eslováquia, Eslovénia, Hungria, Malta,</i>	10
<b>6º</b>			

7. Observa atentamente a figura 3 que representa o *território português*.

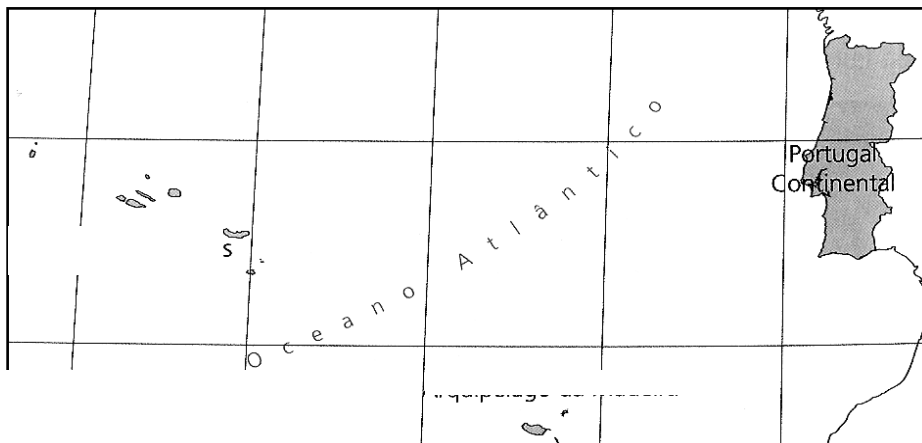


Fig.3

7.1 Identifica as três (3) **unidades geográficas** que constituem o nosso *território nacional*.

.....

7.2 **"Em termos administrativos Portugal divide-se em 20 distritos."**

a) Refere três (3+3) **distritos** que:

➤ *Sejam banhados pelo oceano Atlântico* → .....

➤ *Façam fronteira com Espanha* → .....

b) Indica um (1) **distrito** que **não** seja banhado pelo *oceano Atlântico* nem faça fronteira com *Espanha*.

.....

7.3 Identifica as duas (2) maiores **ilhas** que constituem a *Região Autónoma da Madeira*.

.....

7.4 Preenche o *quadro* com o nome de duas (2+2+2) **ilhas** pertencentes a cada *grupo* que forma o *Arquipélago dos Açores*.

<i>Grupo Ocidental</i>	<i>Grupo Central</i>	<i>Grupo Oriental</i>
▪	▪	▪
▪	▪	▪

8. **"As condições atmosféricas condicionam o nosso dia-a-dia. Vestimo-nos e calçamo-nos conforme o tempo que faz e até organizamos a nossa vida de acordo com elas."**

8.1 Refere o **conceito** que melhor se relaciona com cada *noção*.

<u>Noção</u>	<u>Conceito</u>
✓ Conjunto de condições atmosféricas que se verificam num determinado lugar, num curto espaço de tempo.	.....
✓ Ciência que estuda os fenómenos atmosféricos associados aos estados de tempo.	.....
✓ Todos os elementos que permitem caracterizar o clima.	.....
✓ Ciência que estuda os climas, tendo como apoio a meteorologia.	.....
✓ Sucessão habitual dos estados de tempo numa região, durante um longo período ( <i>normalmente 30 anos</i> ).	.....