	7º Ano	ESCOLA EB 2, 3 DE LEÇA DA PALMEIRA FICHA DE AVALIAÇÃO DE GEOGRAFIA	Mar. 09
	NOME _____		Nº _____ TURMA B
	Classificação:		A professora:

1. “Como sabes a Europa não está sozinha no mundo; ela é rodeada por oceanos, mares e continentes que fazem parte das suas fronteiras naturais.”

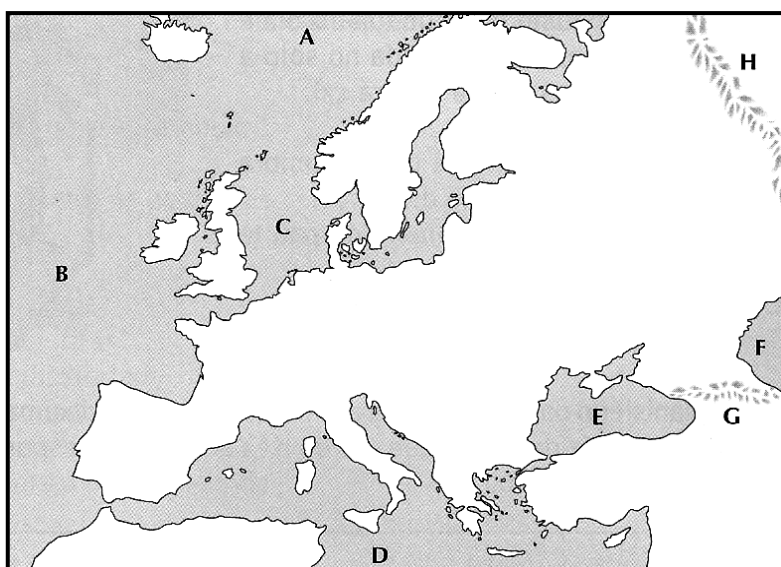


Fig.1

- 1.1 **Localiza** no mapa da figura 1, assinalando com as respectivas *letras* (A, B, C e D), quatro (4) **limites** naturais que separam a *Europa* dos outros continentes.

- A – Oceano Atlântico;
- B – Oceano Glacial Ártico;
- C – Mar Mediterrâneo;
- D – Mar Negro.

- 1.2 **Assinala** no mapa da Europa, usando a *letra* devida, a **localização** dos seguintes *acidentes* costeiros.

<u>Penínsulas</u>	<u>Ilhas</u>
-------------------	--------------

- | | |
|------------------|------------------|
| a - Ibérica | d - Islândia |
| b - Itálica | e - Grã-Bretanha |
| c - Escandinávia | f - Irlanda |
| | g - Sicília |

2. Observa, com atenção, o actual **mapa político da Europa**.

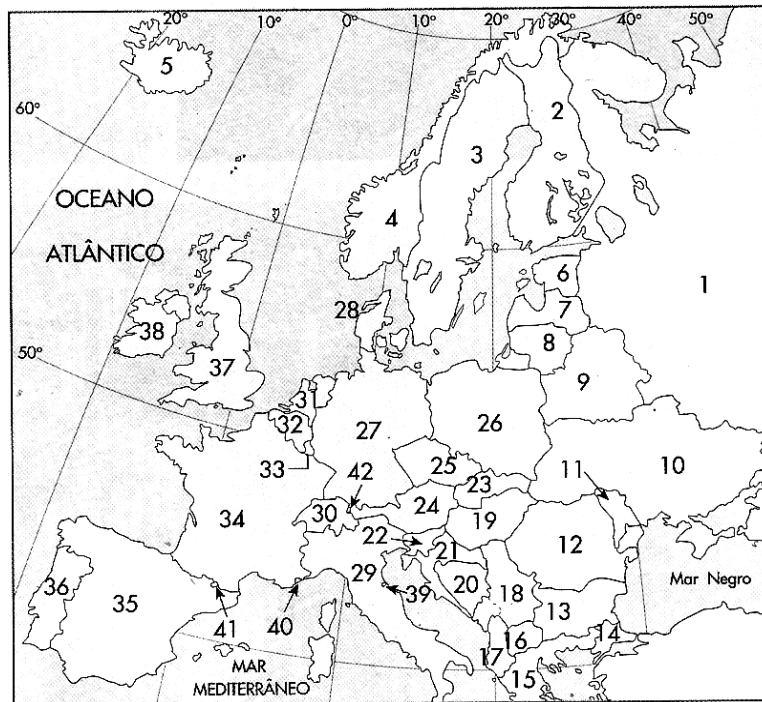


Fig.2

2.1 Escolhe oito (8) **países** da Europa que conheças e, em seguida, preenche o *quadro* com o respectivo **número, nome** e ainda a **capital** de quatro (4) deles.

Nº	Nome do País	4 Capitais

2.2 Baseia-te no mapa da figura 2 e escolhe a **opção correcta** (*risca a opção errada*).

- *Um país cujo território é constituído apenas por ilhas* – **Islândia / França**
- *O maior país da Europa* – **Itália / Rússia**
- *País localizado no interior do continente* – **Reino Unido / Suíça**
- *Um país com que a Rússia tem fronteira* – **Ucrânia / Espanha**
- *Um dos dois países euro-asiáticos* – **Turquia / Alemanha**
- *País situado nas Ilhas Britânicas* – **Reino Unido / Grécia**
- *País que tem fronteira com Portugal* – **França / Espanha**

3. «Na Europa o número de países variou no tempo tendo, na última década do século XX, se multiplicado de modo significativo.»

3.1 Das afirmações que se seguem assinala, com um **X**, as **verdadeiras**.

- A. *O actual território da Alemanha resulta da reunificação alemã ocorrida no ano de 1990.*
- B. *Em 01 de Janeiro de 1993, a Checoslováquia dividiu-se e originou dois novos países, a República Checa e a Espanha.*
- C. *A Rússia era a república que liderava a antiga União Soviética – URSS, União das Repúblicas Socialistas Soviéticas.*
- D. *A alteração mais recente no mapa político europeu foi o desmembramento da União Soviética, em meados de 1991.*

4. *'Durante séculos, as potências europeias guerrearam-se e defenderam a sua soberania até que, em Março de 1957, seis países fundaram uma importante comunidade na Europa.'*

a) Sublinha o *nome* da **comunidade** a que o texto se refere.

- o Comunidade Económica Europeia - *CEE*;
- o Organização das Nações Unidas - *ONU*;
- o Comunidade Europeia do Carvão e do Aço - *CECA*.

b) Identifica quatro (4) **países** dos *seis* que fundaram essa **organização**.

.....

4.1 Completa o *quadro* colocando todos os **elementos** da *chave* no local correcto.

<i>Alargamento</i>	Ano	Países Aderentes	Nº
1º	1973	<i>Dinamarca, Reino Unido e</i>	3
2º			
3º		<i>Espanha e</i>	2
4º	1995	<i>Áustria, Finlândia e</i>	3
5º	2004	<i>Estónia, Letónia, Lituânia, República Checa, Eslováquia, Eslovénia, Hungria, Malta, Chipre e</i>	10
6º		<i>Roménia e</i>	

Chave

Bulgária ; Portugal ; 1986 ; Suécia ; 2007 ; Grécia ; 2 ; Irlanda ; 1981 ; Polónia ; 1

5. Observa atentamente a figura 3 que representa o *território português*.

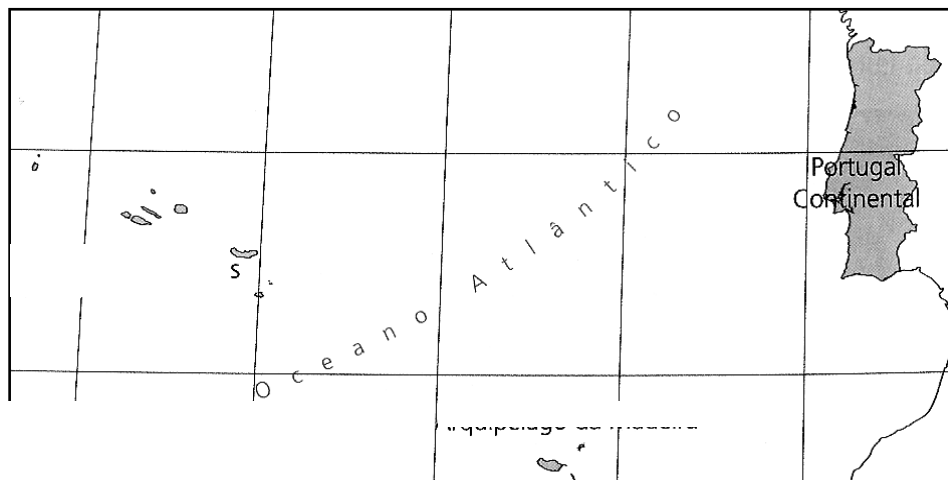


Fig.3

5.1 Identifica as três (3) **unidades geográficas** que constituem o *território nacional*.

.....

5.2 Refere dois (2+2) **distritos** portugueses que:

➤ *Sejam banhados pelo oceano Atlântico* →

➤ *Façam fronteira com Espanha* →

6. "As condições atmosféricas condicionam muito o dia-a-dia de todas as pessoas."

6.1 Relaciona cada **conceito** presente na lista com a respectiva **definição**.

<u>Definição</u>	<u>Conceito</u>
✓ Conjunto de condições atmosféricas que se verificam num determinado lugar, num curto espaço de tempo.
✓ Todos os elementos que permitem caracterizar o clima.
✓ Ciência que estudo os fenómenos atmosféricos associados aos estados de tempo.
✓ Ciência que estuda os climas, tendo como apoio a meteorologia.
✓ Sucessão habitual dos estados de tempo numa região, durante um longo período (<i>normalmente 30 anos</i>).

Lista de Conceitos: Clima; Meteorologia; Estado de Tempo; Elementos do Clima; Climatologia.